



ちがいはいくつ

どちらがおおい(しきも かきましょう)4

ねん


くみ なまえ

うしと やぎが います。どちらが なんとか おおいですか。しきを かいて こたえましょう。




しき $5 - 1 = 4$

こたえ が とう おおい




しき $8 - 4 = 4$

こたえ が とう おおい



しき $9 - 5 = 4$

こたえ が とう おおい



しき $10 - 5 = 5$

こたえ が とう おおい